

受験番号

外国語科目：日本語

ME

- ◎ すべての問題に答えなさい。この問題用紙は7ページ、下書き用紙は1枚ある。
- ◎ 解答はすべて、この問題用紙に書きなさい。問題用紙にメモを書いてもよい。
- ◎ 問題用紙は切り離してもよいが、7ページすべて提出すること。

問題。次の文章を読んで問いに答えなさい。

——本文はここから——

この部分に記載されている文章については、著作権法上の問題から公表することができませんのでご了承ください。

——次ページに続く——

——前ページからのつづき——

この部分に記載されている文章については、著作権法上の問題から公表することができませんのでご了承願います

○

——次ページに続く——

——前ページからのつづき——

この部分に記載されている文章については、著作権法上の問題から公表することができませんのでご了承ください。

——次ページに続く——

——前ページからのつづき——

この部分に記載されている文章については、著作権法上の問題から公表することができませんのでご了承願います

○

この部分に記載されている文章については、著作権法上の問題から公表することができませんのでご了承願います

○

問1. 次の文のすべての漢字の読み方を書きなさい(漢字の上下のスペースに直接書きなさい)。

(ア) 「本物のコーヒーを提供する」というこだわりが、時に顧客側の要望と正反対の方向を
向いてしまうことに気づいた





(イ) 「誤ったこだわり」から脱却するための唯一の方法はさまざまな方法を用いながら
「消費者目線」を徹底することなのである

問2. 「USJの業績がV字回復した」とは、具体的にどうなったことを表現しているのか、説明しなさい。

問3. 「「矛盾」こそがスタバをグローバルチェーンにした」とはどういうことか、筆者がこの文章で言いたいことを、わかりやすく説明しなさい。

問4. この文章全体の内容を要約して発表することになったと考えなさい。以下の枠線を1枚のスライドとして、4~8ページ程度のプレゼンテーション(発表)資料を作成しなさい。内容の整理のために図形や図表を使ってもよい。

The image contains four empty rectangular boxes arranged in a 2x2 grid. Each box is intended for a presentation slide. Each box has a solid black border and a dashed horizontal line near the top edge, approximately one-fifth of the way down from the top border. The boxes are currently empty, providing space for the student to create a presentation slide.



以上

